



وزارت آموزش و پرورش
سازمان ملی پرورش استعداد های درخشان



Friazi.com

آزمون هوش تصویری

نام و نام خانوادگی:

تعداد صفحات دفترچه: ۶ صفحه

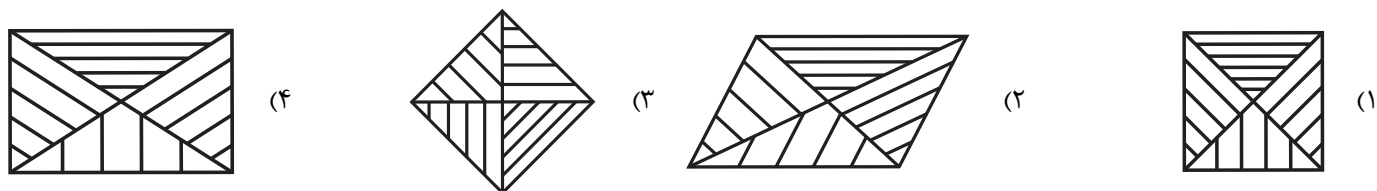
تعداد پرسش های دفترچه: ۱۹ سؤال (ردیف ۱ تا ۱۹)

تذکر مهم: به ازای هر پاسخ صحیح، «۳» نمره ی مثبت و به ازای هر پاسخ غلط، «۱» نمره ی منفی برای داوطلب در نظر گرفته می شود. برای پرسش های بدون پاسخ، نمره ای در نظر گرفته نمی شود.

چنانچه هر داوطلب در هر پرسش بیش از یک گزینه را علامت زده باشد، «۱» نمره ی منفی برای او در نظر گرفته می شود.

هوش تصویری

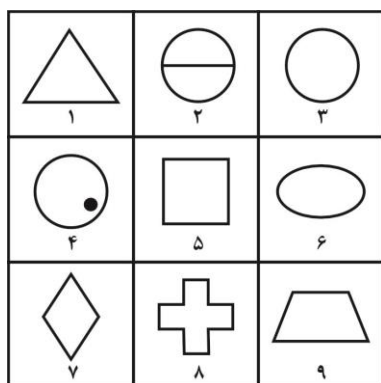
۱- کدام گزینه با بقیه تفاوت دارد؟



۲- کدام گزینه با بقیه تفاوت دارد؟



۳- کدام گزینه دسته‌بندی صحیح را نمایش می‌دهد؟




(۱) (۹، ۷، ۶)، (۸، ۵، ۱)، (۴، ۳، ۲)

(۲) (۴، ۹، ۱)، (۷، ۶، ۲)، (۳، ۸، ۵)

(۳) (۹، ۸، ۱)، (۷، ۵، ۳)، (۶، ۴، ۲)

(۴) (۷، ۶، ۱)، (۹، ۴، ۲)، (۳، ۵، ۸)

۴- در بین گزینه‌ها، کدام دسته از شکل‌ها، وجه اشتراک بیشتری دارند؟



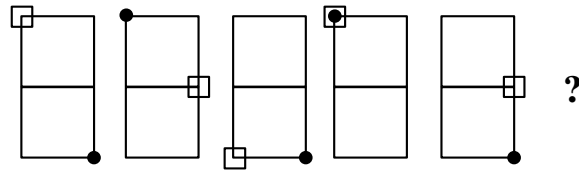
(۴) ۴-۲-۸

(۳) ۷-۴-۱

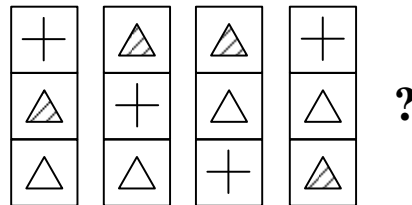
(۲) ۱-۵-۹

(۱) ۶-۳-۲

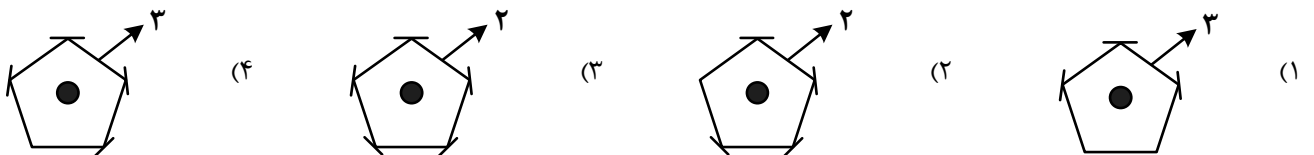
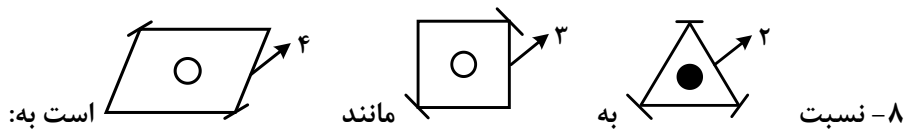
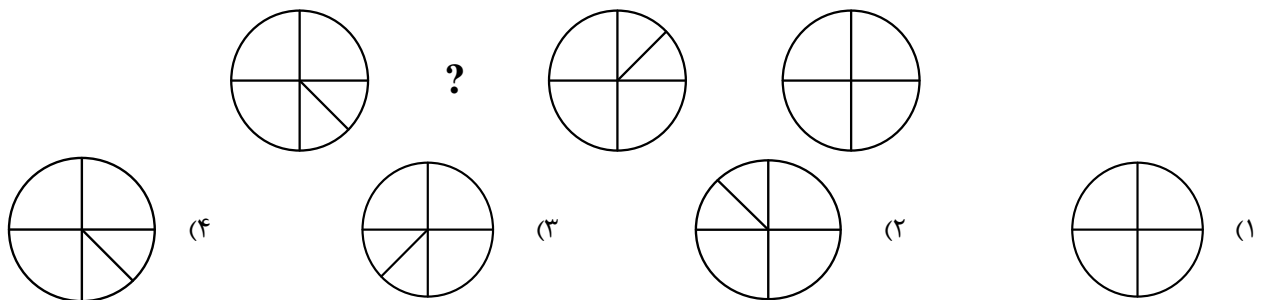
۵- به جای علامت سؤال کدام گزینه قرار می‌گیرد؟

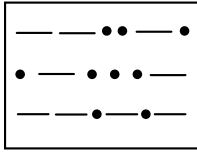
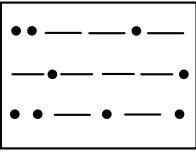





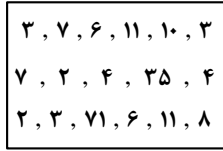
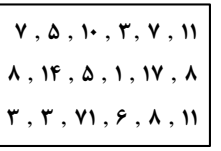
۶- به جای علامت سؤال کدام گزینه قرار می‌گیرد؟



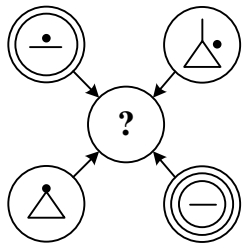
۷- به جای علامت سؤال کدام گزینه قرار می‌گیرد؟



۹- رابطه‌ی  به  مانند رابطه‌ی  است به"

(۱)  (۲)  (۳)  (۴) 

۱۰- هر نمادی که در چهار شکل اطراف شکل اصلی قرار دارد براساس قوانین زیر به شکل مرکزی منتقل می‌شود. کدام گزینه شکل صحیح دایره‌ی مرکزی را نمایش می‌دهد؟



تنها یک‌بار: منتقل شود.

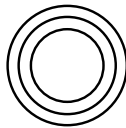
دو‌بار: ممکن است منتقل شود.

سه‌بار: منتقل نمی‌شود.

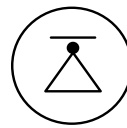
چهار بار: منتقل می‌شود.




(۴)



(۳)

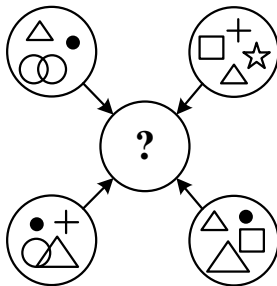


(۲)



(۱)

۱۱- هر نمادی که در چهار دایره بیرونی ظاهر شده باشد براساس قوانین زیر به دایره‌ی مرکزی منتقل می‌شود. براساس قوانین زیر کدام گزینه به جای علامت سؤال قرار خواهد گرفت؟



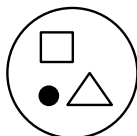
- تنها یک‌بار، منتقل نمی‌شود:

- دو‌بار، منتقل می‌شود:

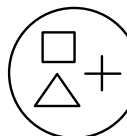
- بیشتر از دو‌بار، شاید منتقل شود:



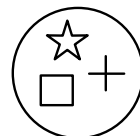
(۴)



(۳)

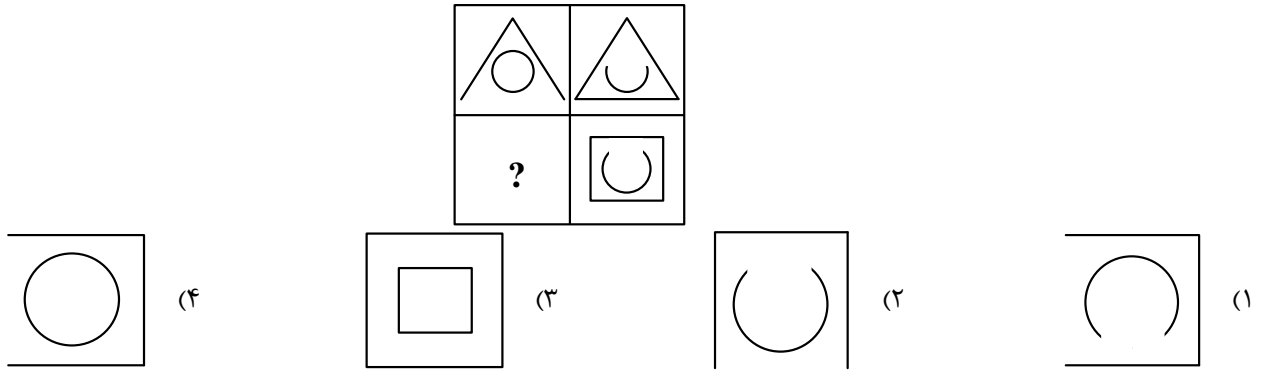


(۲)

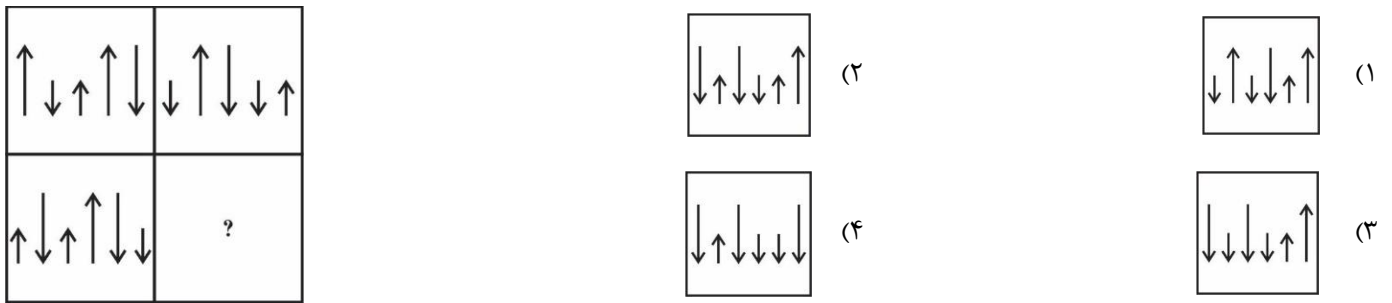


(۱)

۱۲- به جای علامت سؤال کدام گزینه قرار می‌گیرد؟



۱۳- به جای علامت سؤال، کدام گزینه قرار می‌گیرد؟



۱۴- کدام گزینه شکل مقابل را کامل می‌کند؟

ACDI	PONM	WXYZ
WXYZ	CEFK	MNOP
MNOP	WXYZ	EGHM
JOQT	FACT	HKNP
HKNP	LQSV	TCAF
TCAF	HKNP	NSUX
ZGBF	?	FRIZ
FRIZ		MRFN
MRFN		DKFJ

M	R	F	N
B	D	F	H
F	R	I	Z

 (۴)

N	F	R	M
B	I	D	H
F	R	I	Z

 (۳)

N	F	R	M
A	H	C	F
F	R	I	Z

 (۲)



N	F	R	M
F	B	G	Z
F	R	I	Z

 (۱)

۱۵- به جای علامت سؤال، کدام گزینه قرار می‌گیرد؟



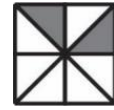
۱۶- به جای علامت سؤال، کدام گزینه قرار می‌گیرد؟



(۲)



(۱)


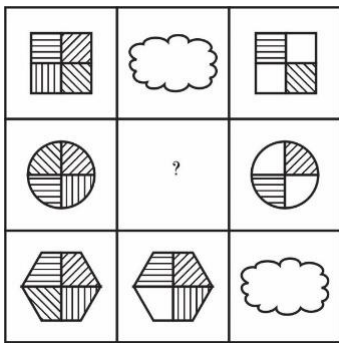


(۴)



(۳)

۱۷- به جای علامت سؤال، کدام گزینه قرار می‌گیرد؟



(۲)



(۱)

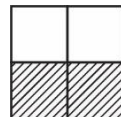
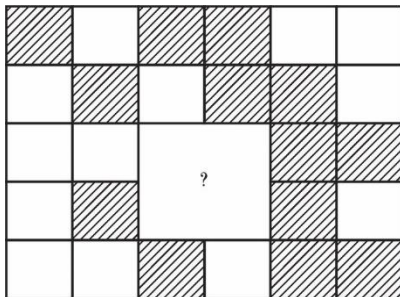


(۴)

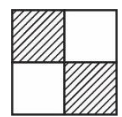


(۳)

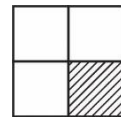
۱۸- کدام گزینه، شکل را کامل می‌کند؟



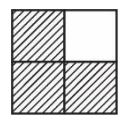
(۲)



(۱)

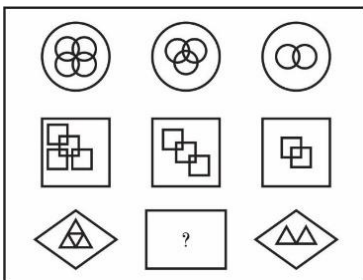


(۴)



(۳)

۱۹- کدام گزینه، شکل را کامل می‌کند؟



(۲)



(۱)



(۴)



(۳)